




Задание 5 (10 баллов) 48

Вам предлагаются фотографии некоторых географических объектов Кемеровской области - Кузбасса. Попробуйте определить, что это за объект и чем он известен. Результаты исследования запишите в таблицу.

№	Описание или изображение объекта	Название	Чем известен
1.	 <p data-bbox="215 940 454 985">Беловский район</p>	<p data-bbox="829 604 1053 716" style="color: red;">центр Кузбасса</p>	<p data-bbox="1125 582 1404 739" style="color: red;">географический центр Кузбасса</p>
2.	 <p data-bbox="215 1377 550 1422">Междуреченский район</p>	<p data-bbox="837 1041 1093 1164" style="color: blue;">Кузнецкий фронтон</p>	<p data-bbox="1125 996 1396 1153" style="color: red;">самые высокие горы Кузбасса</p>
3.	 <p data-bbox="215 1892 518 1937">Таштагольский район</p>	<p data-bbox="829 1556 1045 1691" style="color: blue;">Фроловские пещеры</p>	<p data-bbox="1117 1444 1412 1680" style="color: red;">одна из крупнейших пещер, здесь по пещере невелики — йети</p>